

Центр масс

В листке «Системы материальных точек» рассматривалось описание движения тела в случае, когда тело нельзя считать материальной точкой. Здесь мы продолжим это рассмотрение и обнаружим, что для любой системы материальных точек существует воображаемая точка (называемая *центром масс*), которая движется так, как если бы вся масса системы была сосредоточена в этой точке. Например, если артиллерийский снаряд, выпущенный из пушки под углом к горизонту, в некоторой точке своей параболической траектории разорвался на несколько частей (полетевших в различных направлениях), то центр масс полученных частей продолжит движение по изначальной параболе! Подобный факт может сильно помочь при решении некоторых задач.

Итак, рассмотрим систему из N материальных точек массами m_1, m_2, \dots, m_N , движущихся со скоростями $\vec{v}_1, \vec{v}_2, \dots, \vec{v}_N$. Импульс этой системы

$$\vec{p} = \vec{p}_1 + \vec{p}_2 + \dots + \vec{p}_N = m_1\vec{v}_1 + m_2\vec{v}_2 + \dots + m_N\vec{v}_N.$$

Как мы знаем, скорость изменения вектора \vec{p} есть равнодействующая внешних сил, приложенных к точкам системы:

$$\frac{d\vec{p}}{dt} = \vec{F}_{\text{внеш}}.$$

Запишем это в проекциях на оси x, y, z прямоугольной декартовой системы координат:

$$\begin{aligned} F_{\text{внеш}, x} &= \frac{dp_x}{dt} = \frac{d(m_1v_{1x} + m_2v_{2x} + \dots + m_Nv_{Nx})}{dt} = m_1\dot{v}_{1x} + m_2\dot{v}_{2x} + \dots + m_N\dot{v}_{Nx} = \\ &= m_1a_{1x} + m_2a_{2x} + \dots + m_Na_{Nx} = \sum_i m_i a_{ix}, \end{aligned} \quad (1)$$

где a_{ix} — проекция на ось x ускорения \vec{a}_i i -й точки. Аналогично

$$F_{\text{внеш}, y} = \sum_i m_i a_{iy}, \quad (2)$$

$$F_{\text{внеш}, z} = \sum_i m_i a_{iz}. \quad (3)$$

Возвращаясь от формул (1)–(3) к векторной записи, получим

$$\sum_i m_i \vec{a}_i = \vec{F}_{\text{внеш}}. \quad (4)$$

А теперь введём понятие центра масс. Пусть i -я точка нашей системы имеет координаты (x_i, y_i, z_i) . По определению, *центром масс* системы называется точка C с координатами

$$x_c = \frac{m_1x_1 + m_2x_2 + \dots + m_Nx_N}{m_1 + m_2 + \dots + m_N}, \quad (5)$$

$$y_c = \frac{m_1y_1 + m_2y_2 + \dots + m_Ny_N}{m_1 + m_2 + \dots + m_N}, \quad (6)$$

$$z_c = \frac{m_1z_1 + m_2z_2 + \dots + m_Nz_N}{m_1 + m_2 + \dots + m_N}. \quad (7)$$

Более коротко это определение выглядит в векторной записи: если \vec{r}_i — радиус-вектор i -й точки (то есть вектор, начало которого совпадает с началом координат, а конец расположен в данной точке), то центр масс нашей системы есть точка с радиус-вектором

$$\vec{r}_c = \frac{m_1\vec{r}_1 + m_2\vec{r}_2 + \dots + m_N\vec{r}_N}{m_1 + m_2 + \dots + m_N}.$$

Чем интересен центр масс? Продифференцируем формулу (5) по времени:

$$\dot{x}_c = \frac{m_1\dot{x}_1 + m_2\dot{x}_2 + \dots + m_N\dot{x}_N}{m_1 + m_2 + \dots + m_N};$$

но производная координаты x по времени есть x -проекция скорости, так что

$$v_{cx} = \frac{m_1v_{1x} + m_2v_{2x} + \dots + m_Nv_{Nx}}{m_1 + m_2 + \dots + m_N} = \frac{1}{M} \sum_i m_i v_{ix}, \quad (8)$$

где $M = m_1 + m_2 + \dots + m_N$ есть масса нашей системы. Аналогично, дифференцируя по времени формулы (6) и (7), получим

$$v_{cy} = \frac{1}{M} \sum_i m_i v_{iy}, \quad (9)$$

$$v_{cz} = \frac{1}{M} \sum_i m_i v_{iz}. \quad (10)$$

Формулы (8)–(10) дают выражение для вектора скорости центра масс:

$$\vec{v}_c = \frac{1}{M} \sum_i m_i \vec{v}_i.$$

Отсюда

$$\sum_i m_i \vec{v}_i = M \vec{v}_c, \quad (11)$$

то есть импульс системы материальных точек равен произведению массы системы на скорость центра масс. Иными словами, система точек обладает таким же импульсом, какой имела бы одна точка с массой, равной массе системы, и двигающаяся со скоростью центра масс.

Теперь дифференцируем по времени формулы (8)–(10):

$$\dot{v}_{cx} = \frac{1}{M} \sum_i m_i \dot{v}_{ix}, \quad \dot{v}_{cy} = \frac{1}{M} \sum_i m_i \dot{v}_{iy}, \quad \dot{v}_{cz} = \frac{1}{M} \sum_i m_i \dot{v}_{iz},$$

или

$$a_{cx} = \frac{1}{M} \sum_i m_i a_{ix}, \quad a_{cy} = \frac{1}{M} \sum_i m_i a_{iy}, \quad a_{cz} = \frac{1}{M} \sum_i m_i a_{iz}.$$

Последние три формулы дают выражение для вектора ускорения центра масс:

$$\vec{a}_c = \frac{1}{M} \sum_i m_i \vec{a}_i,$$

откуда

$$M \vec{a}_c = \sum_i m_i \vec{a}_i.$$

Сравнивая данное соотношение с формулой (4), получим

$$M \vec{a}_c = \vec{F}_{\text{внеш}}.$$

Это — **теорема о движении центра масс**, которая гласит: *произведение массы системы на ускорение центра масс есть равнодействующая внешних сил, приложенных к системе*. Иными словами, центр масс системы движется так же, как двигалась бы точка с массой, равной массе системы, под действием суммы всех внешних сил, действующих на систему (внутренние силы системы не оказывают влияния на движение центра масс). Например, если бросить палку под углом к горизонту, то её центр масс будет двигаться по параболе, а сложное движение палки можно рассматривать как комбинацию двух движений: перемещения центра масс по параболической траектории и вращения палки вокруг центра масс. Мы видим, что понятие центра масс позволяет упростить описание движения системы точек (в частности, твёрдого тела).

Приведём некоторые важные свойства, которыми обладает центр масс. Они следуют из определения или из теоремы о движении центра масс.

- Если тело имеет центр симметрии O , то центр масс тела расположен в точке O . Если тело имеет ось симметрии, то центр масс тела расположен на этой оси.
- Выделим в данной системе точек некоторую подсистему и заменим её одной точкой, которая расположена в центре масс подсистемы и имеет массу, равную массе подсистемы. От такой замены положение центра масс всей системы не изменится.

Иными словами, систему точек можно разбить на подсистемы, найти центр масс каждой подсистемы, поместить в найденные центры масс точечные массы, равные массам подсистем, а потом искать центр масс всей системы как «центр масс центров масс».

- Напомним, что система называется *замкнутой*, если внешние силы на систему не действуют или уравновешивают друг друга (то есть равнодействующая внешних сил обращается в нуль). Из теоремы о движении центра масс для замкнутой системы получим $\vec{a}_c = \vec{0}$, так что центр масс замкнутой системы покоится или движется равномерно и прямолинейно.

Это же можно увидеть из формулы (11) — ведь импульс замкнутой системы сохраняется, а потому и $\vec{v}_c = \text{const}$.

Следовательно, если связать систему отсчёта с центром масс замкнутой системы точек, то такая система отсчёта будет инерциальной.

- Если сумма проекций внешних сил (приложенных к системе) на некоторую ось X равна нулю, то из теоремы о движении центра масс следует, что $a_x = 0$; центр масс системы вдоль оси X либо не движется, либо движется равномерно и прямолинейно.

Это же можно видеть из формулы (8), поскольку проекция импульса системы на ось X в данном случае сохраняется.

ЗАДАЧА 1. (МОШ, 2016, 9) С момента написания писателем Григорием Остером новелл про четверых друзей — Мартышку, Слоно́нка, Удава и Попугая — прошло уже почти 40 лет. За это время Слоно́нок вырос и превратился в Слона, Удав стал ещё длиннее, Попугай состарился и сгорбился, а Мартышка служит теперь чучелом в зоологическом музее. На очередном собрании друзья вспомнили, как они измеряли длину удава, и решили тряхнуть стариной. Удав, лёжа на горизонтальном полу, вычислил расстояние от пола до своего центра масс, и оказалось, что оно равно 10 см. Центр масс Слона оказался на высоте 2 м над полом. Центр масс Удава и Слона вместе взятых находился на высоте 1,7 м. Когда на голову слона на высоте 3,5 м над полом сел Попугай, центр масс всех троих оказался выше ещё на 0,5 мм. Какова масса Удава в Попугаях, если высота Попугая намного меньше толщины Удава?

ЗАДАЧА 2. а) Покажите, что центр масс двух точек одинаковой массы находится посередине между точками.

б) Покажите, что центр масс однородного стержня находится в его середине.

ЗАДАЧА 3. Найдите положение центра масс двух точек массами m и $2m$, расположенных на расстоянии l друг от друга.

$$l \frac{2}{3} = \text{расстояние от точки массой } m$$

ЗАДАЧА 4. Три небольших тела массами m , $3m$ и $4m$ расположены последовательно на одной прямой в точках A_1 , A_2 и A_3 . Известно, что $A_1A_2 = l$ и $A_2A_3 = 2l$.

1) Найдите положение центра масс этой системы по формуле (5).

2) Убедитесь, что положение центра масс системы не изменится, если найти его как центр масс тела m и тела $7m$, расположенного в центре масс системы тел $3m$ и $4m$.

$$l \frac{8}{11} = \text{расстояние от } m$$

ЗАДАЧА 5. 1) Три одинаковые массы расположены в вершинах треугольника. Где находится центр масс данной системы?

2) Где находится центр масс однородной треугольной пластины?

В точке пересечения медиан

ЗАДАЧА 6. (Всеросс., 1997, ОЭ, 10) Найдите положение центра масс системы касающихся друг друга шаров (рис.). Все шары имеют одинаковый диаметр $a = 3$ см, а их массы возрастают по закону: $m_1 = m$, $m_2 = 3m$, $m_3 = 5m$, ..., $m_N = (2N - 1)m$, где $N = 500$. Плотность каждого шара постоянна.



$$x = \frac{a}{2} \approx \frac{N^2}{2N} a = \frac{N}{2} a$$

ЗАДАЧА 7. Найдите положение центра масс однородного диска радиуса R , из которого вырезано круглое отверстие радиуса $R/3$. Центр вырезанного отверстия находится на расстоянии $R/2$ от центра диска.

На оси симметрии на расстоянии $R/16$ от центра диска

ЗАДАЧА 8. («Физтех», 2012, 10–11) Внутри однородного шара радиусом $R = 39$ см находится сферическая полость радиусом $r = 13$ см, касающаяся поверхности шара. На каком расстоянии от центра шара находится центр масс шара с полостью? Ответ выразить в сантиметрах.

$$x = \frac{R-r}{2} = 13 \text{ см}$$

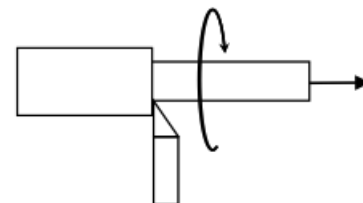
ЗАДАЧА 9. (МФТИ, 1984) Составной стержень представляет собой два соосных цилиндра, прижатых друг к другу торцами. Оказалось, что центр масс такого стержня находится в стыковочном сечении. Цилиндры изготовлены из одинакового материала, но площадь сечения одного цилиндра в три раза больше площади сечения другого. Определить отношение длин цилиндров.

$$\frac{3}{2}$$

ЗАДАЧА 10. (*Всеросс., 2014, ШЭ, 10*) Две стороны проволочной рамки, имеющей форму равностороннего треугольника, сделаны из алюминиевой проволоки, а третья — из медной вдвое большего диаметра. Плотность меди считайте в три раза большей плотности алюминия. Определите, на каком расстоянии от середины медной проволоки находится центр тяжести системы, если сторона треугольника равна L .

$$T \frac{8z}{\xi^{\lambda}} = x$$

ЗАДАЧА 11. («Росатом», 2019, 11) Из цилиндрической заготовки радиуса R и длиной h токарь резцом на токарном станке вырезает цилиндр радиуса $3R/4$, снимая металл резцом за один проход (см. рисунок). На какое максимальное расстояние смещается центр тяжести заготовки в процессе ее обработки?



$$\frac{rI}{l} = x \nabla$$

ЗАДАЧА 12. Однородный стержень поставлен вертикально на гладкую горизонтальную поверхность и начинает движение из состояния покоя. По какой траектории будет двигаться центр стержня?

По вертикали

[Овчинкин] → 4.25, 4.26.

ЗАДАЧА 13. («Курчатов», 2014, 9–10) На гладком льду лежит однородная доска длиной $l = 2$ м. К одному из концов доски привязали верёвку и стали медленно тянуть её вверх. Когда угол между доской и поверхностью льда стал равен 60° , вертикально натянутая верёвка оборвалась. На какое расстояние сместится при падении доски её нижний конец?

На 50 см

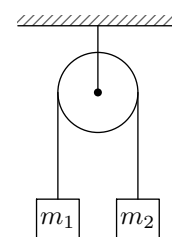
ЗАДАЧА 14. Двойная звезда состоит из двух звёзд-компонентов массами m_1 и m_2 , расстояние между которыми постоянно и равно L . Найдите период вращения двойной звезды.

$$\frac{(z_{u+1}u) \varrho}{\varepsilon T} \sqrt{\nu z} = L$$

ЗАДАЧА 15. (*Всеросс., 1995, финал, 9*) Сидевший на корточках человек резко выпрямляется и, оттолкнувшись от пола, подпрыгивает так, что его центр масс поднимается на высоту h , равную $3/4$ его роста l (высота отсчитывается от пола). Найдите среднюю силу, с которой человек действует на пол во время отталкивания. Центр масс человека, когда он стоит выпрямившись, находится на высоте $l/2$ от пола. Перед прыжком центр масс человека находился на высоте $l/4$ от пола. Масса человека $m = 75$ кг.

$$N \ 00151 = \delta \omega z = N$$

ЗАДАЧА 16. (*Машина Атвуда*) Грузы массами m_1 и m_2 ($m_1 > m_2$) прикреплены к нерастяжимой нити, перекинутой через неподвижный блок (см. рисунок). Система предоставлена самой себе. Пользуясь теоремой о движении центра масс, найдите вес системы P (силу давления на ось блока). Массами нити и блока пренебrecь. Трение в системе отсутствует.

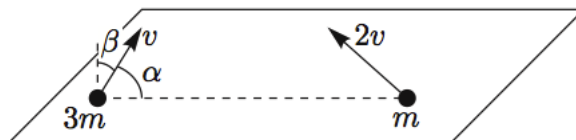


$$\frac{z_{u+1}u}{\delta z_{u+1}u} = d$$

ЗАДАЧА 17. Дальность полёта снаряда, вылетающего из закреплённой пушки под углом к горизонту, равна L . В верхней точке траектории снаряд разорвался на два осколка равной массы, один из которых попал в пушку. На каком расстоянии от пушки приземлился второй осколок?

72

ЗАДАЧА 18. (Всеросс., 2008, ОЭ, 10) Два куска пластилина с массами $3m$ и m брошены одновременно с горизонтальной поверхности Земли со скоростями v и $2v$ (рис.), причём скорости кусков не находятся в одной вертикальной плоскости. Скорость куска массой $3m$ составляет угол $\beta = 45^\circ$ с вертикалью и угол $\alpha = 60^\circ$ с прямой, проходящей через куски перед броском. Через некоторое время куски сталкиваются и слипаются. С какой скоростью упали на Землю слипшиеся куски?



$$\frac{9L}{a} - 0L \frac{8}{a} = n$$

ЗАДАЧА 19. (Всеросс., 1994, ОЭ, 11) Шар радиуса R , скользящий по гладкой горизонтальной поверхности, налетает на ступеньку высотой $H = R/5$. При какой скорости скольжения шар «запрыгнет» на ступеньку после первого удара? Удар шара о ступеньку абсолютно упругий. Трения нет.

$$46 \frac{16}{2211} \sqrt{a} \leq a$$

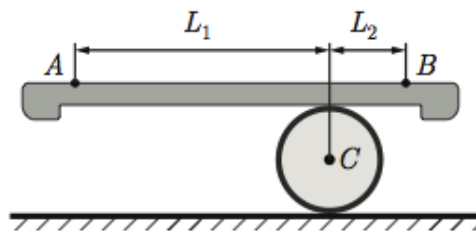
ЗАДАЧА 20. (МОШ, 2016, 11) Закреплённая пушка, установленная на горизонтальной поверхности земли, стреляет под углом α к горизонту, причём снаряды вылетают из пушки с начальной скоростью v_0 . После первого выстрела снаряд упал на расстоянии L от пушки. Вторым выстрелом оказался неудачным, и на некоторой высоте снаряд разорвался на два осколка массами m и $2m$. Первый, лёгкий осколок упал на землю на расстоянии $L/2$ от пушки, а второй осколок в момент падения первого осколка находился строго над ним. Определите расстояние s между осколками к моменту падения на землю первого осколка.

$$\frac{b_{\text{F}}}{\sigma_{\text{z}} \sin \frac{0}{2} a \xi} = s$$

ЗАДАЧА 21. (МОШ, 2007, 11) Снаряд, летевший вертикально, взорвался в верхней точке своей траектории, распавшись на три осколка массами $m_1 = 2m$, $m_2 = 3m$ и $m_3 = 4m$, которые полетели в разные стороны с одинаковыми начальными скоростями. Через некоторое время после взрыва расстояние между осколками m_1 и m_2 оказалось равным L . Чему было равно в этот момент расстояние между осколками m_1 и m_3 , если ни один из осколков ещё не достиг земли? Влиянием воздуха и массой взрывчатого вещества снаряда пренебречь.

$$\frac{7}{8} = x$$

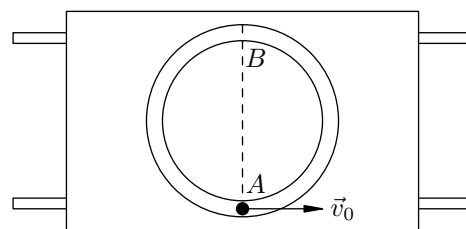
ЗАДАЧА 22. (МОШ, 2019, 9) Балансборд — тренажёр для тренировки чувства равновесия (см. рисунок), представляет собой жёсткую доску, лежащую на цилиндрическом ролике. Базовое упражнение заключается в том, чтобы сохранять равновесие, перекаtywаясь на ролике, при этом желательно, чтобы доска располагалась практически горизонтально. Пусть взаимодействие ступней ног с доской происходит в т. A и B (см. рис.), и положение т. A и B относительно доски не меняется при выполнении упражнения. Ролик по полу и по доске не проскальзывает. В крайнем правом положении расстояния по горизонтали между точками A и B и вертикальной прямой, на которой лежит ось ролика C , равны L_1 и L_2 соответственно. Человек перекаtywается в крайнее левое положение, в котором расстояние между точкой A и C по горизонтали становится равным L_2 .



1. На какое расстояние по горизонтали смещается центр масс человека: относительно доски; относительно земли?
2. На какое расстояние по горизонтали смещается т. A ?

$$\boxed{L_1 - L_2 = L_2 \quad (L_1 = L_2 = L \text{ и } L_1 = L_2 = L)} \quad (1)$$

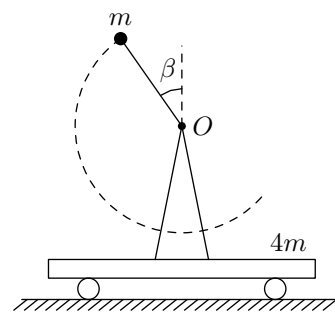
ЗАДАЧА 23. (МФТИ, 1999) На тележке, которая может двигаться по горизонтальным рельсам прямолинейно и без трения, укреплена в горизонтальной плоскости трубка в форме кольца (см. рисунок). Внутри трубки может двигаться без трения шарик массой m . Масса тележки с трубкой равна M , массой колёс тележки пренебречь. Шарик, при неподвижной тележке, сообщают в точке A скорость v_0 , направленную параллельно рельсам.



- 1) Найти скорость тележки при прохождении шариком точки B тележки, диаметрально противоположной точке A .
- 2) На каком расстоянии от первоначального положения окажется тележка через время t_0 , когда шарик совершит несколько оборотов и окажется в точке B тележки?

$$\boxed{v_0 \frac{M+u}{u} = s \quad (s = \frac{M+u}{u} = n)} \quad (1)$$

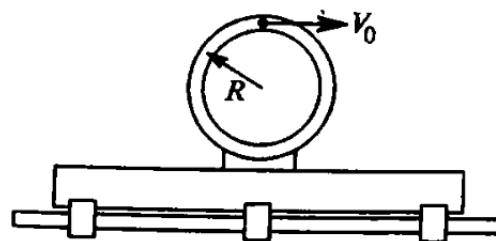
Задача 24. (МФТИ, 1999) Тележка может двигаться прямолинейно, поступательно, без трения по горизонтальной поверхности стола. К тележке прикреплена горизонтальная ось O , перпендикулярная возможному направлению движения тележки (см. рисунок). Вокруг оси O , в плоскости, перпендикулярной ей, может вращаться без трения на стержне длиной L небольшой по размерам шарик массой m . Масса тележки, оси O и её крепления равна $4m$. Массами стержня и колёс тележки пренебречь. Вначале тележка покоилась, а стержень удерживали под углом $\beta = 30^\circ$ к вертикали. Затем стержень отпустили.



- 1) Найти скорость тележки при прохождении шариком нижней точки своей траектории.
- 2) Найти амплитуду колебаний тележки, то есть половину расстояния между наиболее удалёнными друг от друга положениями тележки.

$$\frac{g}{L} = T \frac{uv+u}{w} = V(z; (\frac{g}{L} + z) \frac{0g}{7b}) \wedge = a \quad (1)$$

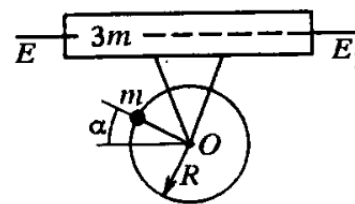
Задача 25. (МФТИ, 1999) Брусок может двигаться поступательно без трения по прямолинейным горизонтальным салазкам, не отрываясь от них. На бруске укреплен в вертикальной плоскости, параллельной салазкам, желоб радиусом R , по которому может скользить без трения небольшой по размерам шарик массой m (см. рисунок). Масса бруска с желобом $6m$. Вначале брусок покоился. Шарик в верхней точке желоба сообщили горизонтальную скорость v_0 .



- 1) Найти скорость бруска при прохождении шариком нижней точки желоба.
- 2) На каком расстоянии от первоначального положения окажется брусок через время t_0 , когда шарик совершит несколько оборотов и окажется в нижней точке желоба?

$$0.70a \frac{z}{L} = T(z; \frac{1z}{2}) : \frac{1z}{\sqrt{9z^2 + \frac{9}{16}a^6}} \wedge = a \quad (1)$$

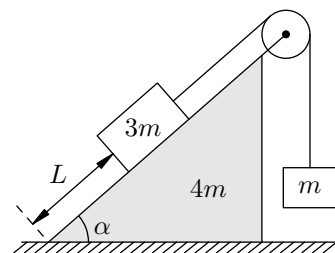
Задача 26. (МФТИ, 1999) Муфта может двигаться поступательно без трения вдоль горизонтальной направляющей EE_1 (см. рисунок). К муфте перпендикулярно EE_1 прикреплена горизонтальная ось O , вокруг которой может вращаться без трения обруч радиусом R с закреплённым на нём небольшим по размерам грузом массой m . Масса муфты, оси O и её крепления равна $3m$. Массой обруча пренебречь. Вначале муфта неподвижна, и обруч удерживают в положении, когда радиус Om составляет угол $\alpha = 30^\circ$ с горизонтом. Затем обруч отпускают.



- 1) Найти скорость муфты при прохождении грузом нижней точки своей траектории.
- 2) Найти амплитуду колебаний муфты, т. е. половину расстояния между наиболее удалёнными друг от друга положениями муфты.

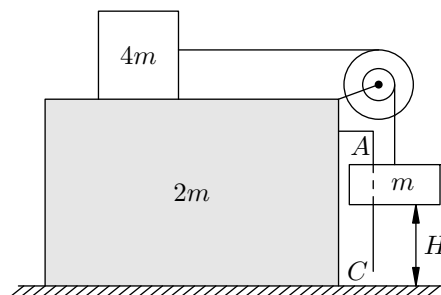
$$\frac{v}{R} = T \frac{uv+u}{w} = V(z; \frac{uv}{L}) : \frac{z}{1} = (\cos \alpha + 1) \frac{g}{L} \wedge = a \quad (1)$$

Задача 27. (МФТИ, 2004) Бруски с массами m и $3m$ связаны лёгкой нитью, перекинутой через блок, укрепленный на вершине клина с углом наклона к горизонту α ($\cos \alpha = 7/9$) и массой $4m$ (см. рисунок). Клинь находится на гладкой горизонтальной поверхности стола. Брусок с массой $3m$ удерживают неподвижно на расстоянии $L = 24$ см от края клина, а затем отпускают. В результате бруски и клин движутся поступательно, их скорости лежат в одной и той же вертикальной плоскости. На какое расстояние сместится клин к моменту удара бруска массой $3m$ о стол? К моменту удара другой брусок ещё не достигает блока. Массой блока пренебречь.



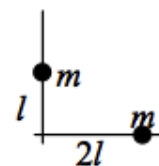
$$\text{(ответ)} \text{ см } L = v \cos \alpha \frac{8}{9} = s$$

Задача 28. (МФТИ, 2004) Брусок в форме прямоугольного параллелепипеда находится на гладкой горизонтальной поверхности стола. На бруске укреплены ступенчатый блок с радиусами шкивов r и $R = 3r$ и вертикальная штанга AC (см. рисунок). На шкивы намотаны лёгкие нити, прикрепленные к грузам с массами m и $4m$. Масса бруска равна $2m$. Груз с массой m может скользить вдоль штанги AC . Вначале груз с массой $4m$ удерживали в покое. При этом груз с массой m находился на расстоянии $H = 14$ см от стола. Затем грузы отпустили. Брусок и грузы стали двигаться поступательно, их скорости оказались в одной и той же вертикальной плоскости. На какое расстояние сместится брусок к моменту удара груза с массой m о стол? При ударе другой груз не достигает блока. Массами блока и штанги пренебречь.



$$\text{(ответ)} \text{ см } H \frac{1}{4} = \frac{1}{4} H = s$$

Задача 29. («Росатом», 2014, 11) Два точечных тела с массами m могут скользить по жёстким спицам, расположенным под прямым углом друг к другу. Тела притягиваются с силой F , величина которой не зависит от расстояния между ними. В начальный момент тела, которые удерживали на расстояниях l и $2l$ от точки пересечения спиц, отпускают. Какое из них первым окажется в точке пересечения спиц? Найти время его движения до этой точки. Силой тяжести и трением пренебречь.



$$\frac{1}{\sqrt{2}} \sqrt{\frac{F}{2m}} \sqrt{l} = t \text{ время движения до точки пересечения спиц}$$