

## Тригонометрические функции. Тангенс и котангенс

Мы начинаем с известного вам геометрического определения тангенса и котангенса — как отношения катетов прямоугольного треугольника.

### Геометрическое определение

Пусть дан прямоугольный треугольник с катетами  $a$ ,  $b$  и гипотенузой  $c$ . Угол, лежащий напротив катета  $a$ , обозначим  $\alpha$  (рис. 1).

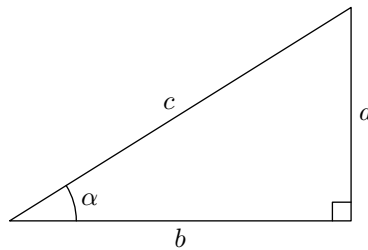


Рис. 1.  $\operatorname{tg} \alpha = a/b$ ,  $\operatorname{ctg} \alpha = b/a$

Тангенс угла  $\alpha$  — это отношение противолежащего катета к прилежащему катету:

$$\operatorname{tg} \alpha = \frac{a}{b}. \quad (1)$$

Котангенс угла  $\alpha$  — это отношение прилежащего катета к противолежащему катету:

$$\operatorname{ctg} \alpha = \frac{b}{a}. \quad (2)$$

Значения тангенса и котангенса зависят только от угла  $\alpha$ ; выбор того или иного прямоугольного треугольника роли не играет.

Разделим на  $c$  числитель и знаменатель дроби в (1):

$$\operatorname{tg} \alpha = \frac{a/c}{b/c}.$$

Как мы знаем,  $a/c = \sin \alpha$  и  $b/c = \cos \alpha$ , поэтому:

$$\operatorname{tg} \alpha = \frac{\sin \alpha}{\cos \alpha}. \quad (3)$$

Поступив аналогично с равенством (2), получим:

$$\operatorname{ctg} \alpha = \frac{\cos \alpha}{\sin \alpha}. \quad (4)$$

Отметим простое тождество:

$$\operatorname{tg} \alpha \operatorname{ctg} \alpha = 1.$$

Оно очевидно как из формул (1), (2), так и из формул (3), (4). Таким образом, котангенс — это величина, обратная тангенсу.

## Тригонометрическое определение

Формулы (1), (2) определяют тангенс и котангенс острого угла. Теперь мы хотим распространить данные определения на произвольные углы. Это не составляет труда — на помощь приходят формулы (3) и (4). Мы получили их как следствия выражений (1) и (2), но ничто не мешает превратить их в определения!

**Определение.** Тангенс угла  $\alpha$  — это отношение синуса  $\alpha$  к косинусу  $\alpha$ . Котангенс угла  $\alpha$  — это, наоборот, отношение косинуса  $\alpha$  к синусу  $\alpha$ :

$$\operatorname{tg} \alpha = \frac{\sin \alpha}{\cos \alpha}, \quad \operatorname{ctg} \alpha = \frac{\cos \alpha}{\sin \alpha}.$$

Синус и косинус произвольных углов мы вычислять уже умеем, поэтому теперь мы получаем аналогичную возможность для тангенса и котангенса.

### Линия тангенсов

Существует наглядная и очень полезная геометрическая интерпретация тангенса — с помощью так называемой линии тангенсов.

*Линия тангенсов* — это касательная к тригонометрической окружности, проведённая в точке  $A(1; 0)$ . Линия тангенсов изображена на рис. 2.

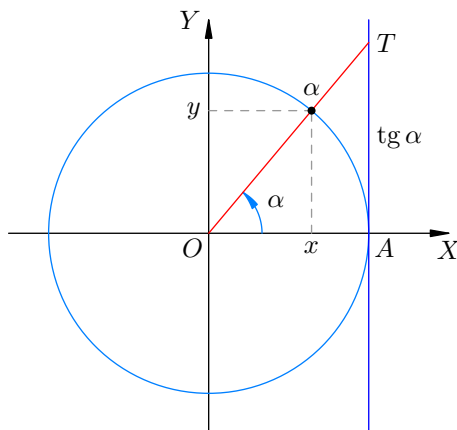


Рис. 2. Линия тангенсов

Возьмём для начала острый угол  $\alpha$ . Соответствующая точка  $\alpha$  расположена в I четверти. Проведём прямую, проходящую через точку  $\alpha$  и начало координат  $O$ ; эта прямая пересекает линию тангенсов в точке  $T$  (рис. 2).

Из тригонометрического определения тангенса вытекает, что  $AT = \operatorname{tg} \alpha$ . В самом деле, согласно определению:

$$\operatorname{tg} \alpha = \frac{\sin \alpha}{\cos \alpha} = \frac{y}{x}$$

(здесь  $x$  и  $y$  — абсцисса и ордината точки  $\alpha$ ). Но из подобия прямоугольных треугольников  $Ox\alpha$  и  $OAT$  имеем  $y/x = AT/OA$ . Поэтому:

$$\operatorname{tg} \alpha = \frac{AT}{OA} = \frac{AT}{1} = AT.$$

Получается, что тангенс угла  $\alpha$  равен ординате точки  $T$ . Таким образом, мы приходим к следующему правилу наглядного представления тангенса на линии тангенсов.

**Геометрическая интерпретация тангенса.** Пусть  $\alpha$  — некоторый угол. Проведём прямую через точку  $\alpha$  и начало координат. Пусть эта прямая пересекает линию тангенсов в точке  $T$ . Тогда тангенс угла  $\alpha$  равен ординате точки  $T$ .

Замечательно, что данная интерпретация справедлива для любого угла  $\alpha$  (рис. 3). Действительно, с учётом знаков  $x$  и  $y$  из подобия треугольников  $O\alpha$  и  $OAT$  легко установить, что отношение  $y/x$  (равное по определению  $\operatorname{tg} \alpha$ ) в каждом случае оказывается равно ординате точки  $T$ . Убедитесь в этом самостоятельно!

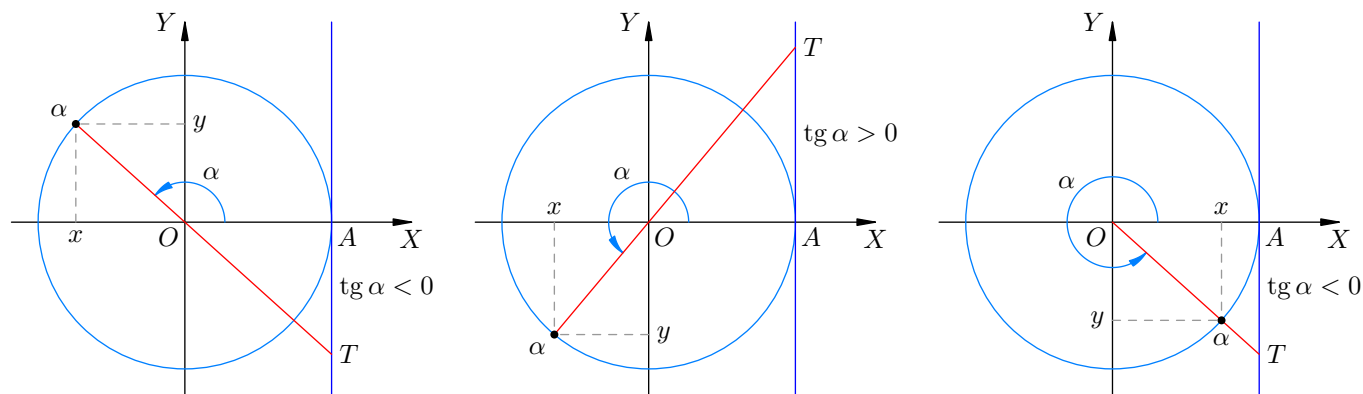


Рис. 3. Тангенс во II, III и IV четвертях. Во всех случаях  $\operatorname{tg} \alpha = y_T$

### Линия котангенсов

Наряду с рассмотренной выше геометрической интерпретацией тангенса существует аналогичная интерпретация котангенса — с помощью линии котангенсов.

*Линия котангенсов* — это касательная к тригонометрической окружности, проведённая в точке  $B(0; 1)$ . Линия котангенсов изображена на рис. 4.

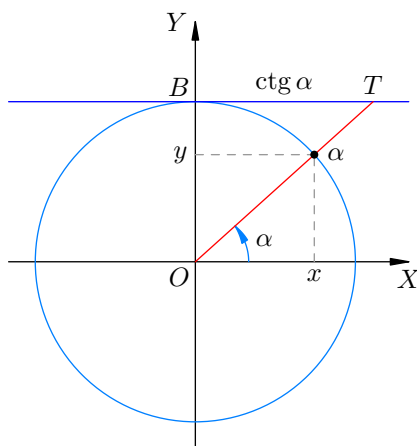


Рис. 4. Линия котангенсов

Снова начинаем с острого угла  $\alpha$ . Соответствующая точка  $\alpha$  расположена в I четверти. Проведём прямую через точку  $\alpha$  и начало координат  $O$ ; эта прямая пересекает линию котангенсов в точке  $T$  (рис. 4).

Тогда оказывается, что  $BT = \operatorname{ctg} \alpha$ . В самом деле, согласно тригонометрическому определению котангенса:

$$\operatorname{ctg} \alpha = \frac{\cos \alpha}{\sin \alpha} = \frac{x}{y}.$$

Но из подобия прямоугольных треугольников  $Oy\alpha$  и  $OBT$  имеем  $x/y = BT/OB$ . Поэтому:

$$\operatorname{ctg} \alpha = \frac{BT}{OB} = \frac{BT}{1} = BT.$$

Таким образом, котангенс угла  $\alpha$  равен абсциссе точки  $T$ . Мы получаем следующий способ наглядного представления котангенса на линии котангентов.

**Геометрическая интерпретация котангенса.** Пусть  $\alpha$  — некоторый угол. Проведём прямую через точку  $\alpha$  и начало координат. Пусть эта прямая пересекает линию котангентов в точке  $T$ . Тогда котангенс угла  $\alpha$  равен абсциссе точки  $T$ .

Данная интерпретация справедлива для любого угла  $\alpha$  (рис. 5). Это устанавливается с помощью тех же рассуждений, что и в случае тангенса.

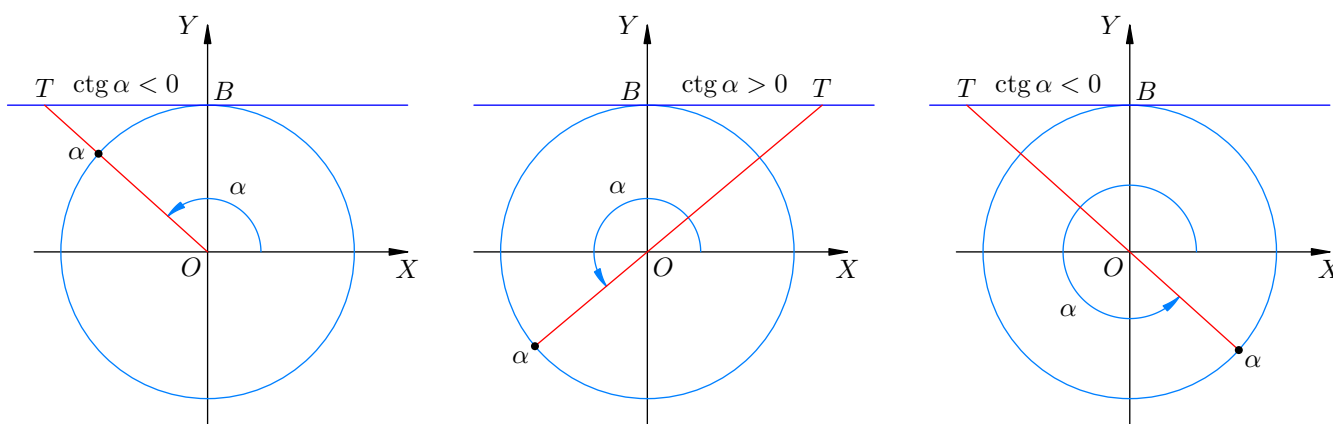


Рис. 5. Котангенс во II, III и IV четвертях. Во всех случаях  $\operatorname{ctg} \alpha = x_T$

## Табличные значения тангенса и котангенса

Табличными являются углы  $0, \pi/6, \pi/4, \pi/3, \pi/2$ . Синус и косинус этих углов нам уже известны, поэтому теперь мы можем найти соответствующие значения тангенса и котангенса (они называются *табличными значениями*).

1. *Нулевой угол.* Имеем:  $\sin 0 = 0, \cos 0 = 1$ , поэтому:

$$\operatorname{tg} 0 = 0, \quad \operatorname{ctg} 0 \text{ не определён.}$$

2. *Угол  $\pi/6$ .* Имеем:

$$\operatorname{tg} \frac{\pi}{6} = \frac{\sin \frac{\pi}{6}}{\cos \frac{\pi}{6}} = \frac{1/2}{\sqrt{3}/2} = \frac{1}{\sqrt{3}}.$$

Соответственно,

$$\operatorname{ctg} \frac{\pi}{6} = \frac{1}{\operatorname{tg} \frac{\pi}{6}} = \sqrt{3}.$$

3. *Угол  $\pi/4$ .* Имеем:

$$\operatorname{tg} \frac{\pi}{4} = \frac{\sin \frac{\pi}{4}}{\cos \frac{\pi}{4}} = \frac{\sqrt{2}/2}{\sqrt{2}/2} = 1,$$

$$\operatorname{ctg} \frac{\pi}{4} = 1.$$

4. Угол  $\pi/3$ . Имеем:

$$\operatorname{tg} \frac{\pi}{3} = \frac{\sin \frac{\pi}{3}}{\cos \frac{\pi}{3}} = \frac{\sqrt{3}/2}{1/2} = \sqrt{3},$$

$$\operatorname{ctg} \frac{\pi}{3} = \frac{1}{\sqrt{3}}.$$

5. Угол  $\pi/2$ . Имеем:  $\sin \frac{\pi}{2} = 1$ ,  $\cos \frac{\pi}{2} = 0$ , поэтому:

$$\operatorname{tg} \frac{\pi}{2} \text{ не определён, } \operatorname{ctg} \frac{\pi}{2} = 0.$$

### График тангенса

Для наглядности укажем табличные значения тангенса на линии тангенсов (рис. 6).

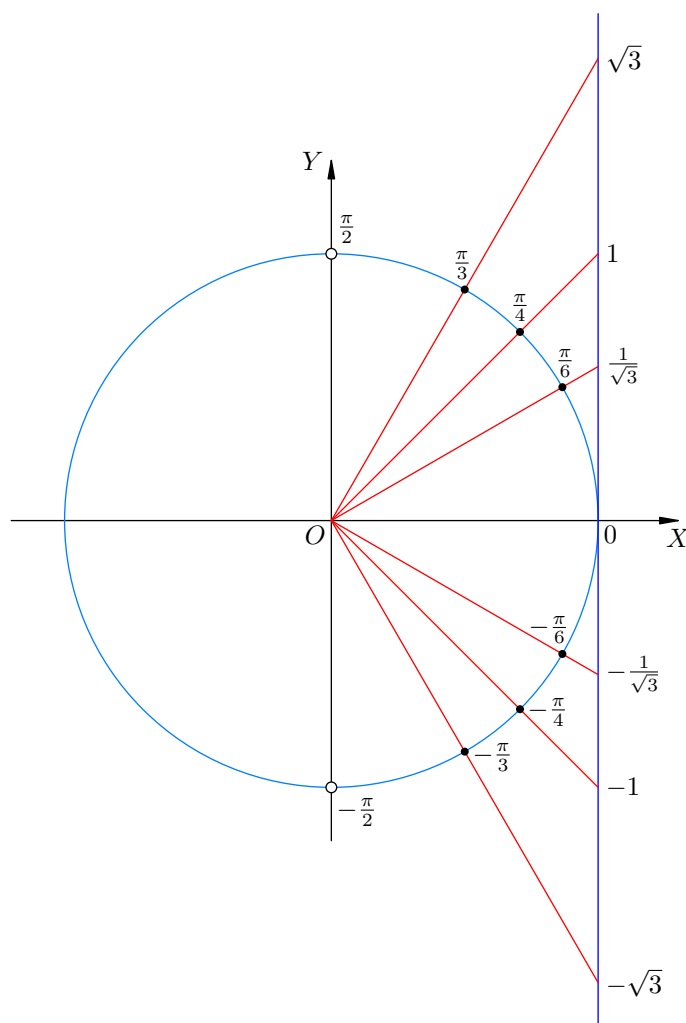


Рис. 6. Табличные значения на линии тангенсов

Из геометрической интерпретации тангенса очевидна его нечётность:  $\operatorname{tg}(-\alpha) = -\operatorname{tg} \alpha$ . Поэтому мы добавили на рисунок отрицательные углы и соответствующие отрицательные табличные значения.

Точки  $\pm\pi/2$  изображены выколотыми: тангенс этих углов не определён (попытка вычислить тангенс такого угла приводит к делению на нуль). Прямая, проходящая через начало координат и данные точки, не пересекает линию тангенсов.

Изобразим на координатной плоскости полученное соответствие между табличными углами и значениями тангенса (рис. 7). По оси абсцисс отложен угол, по оси ординат — тангенс этого угла.

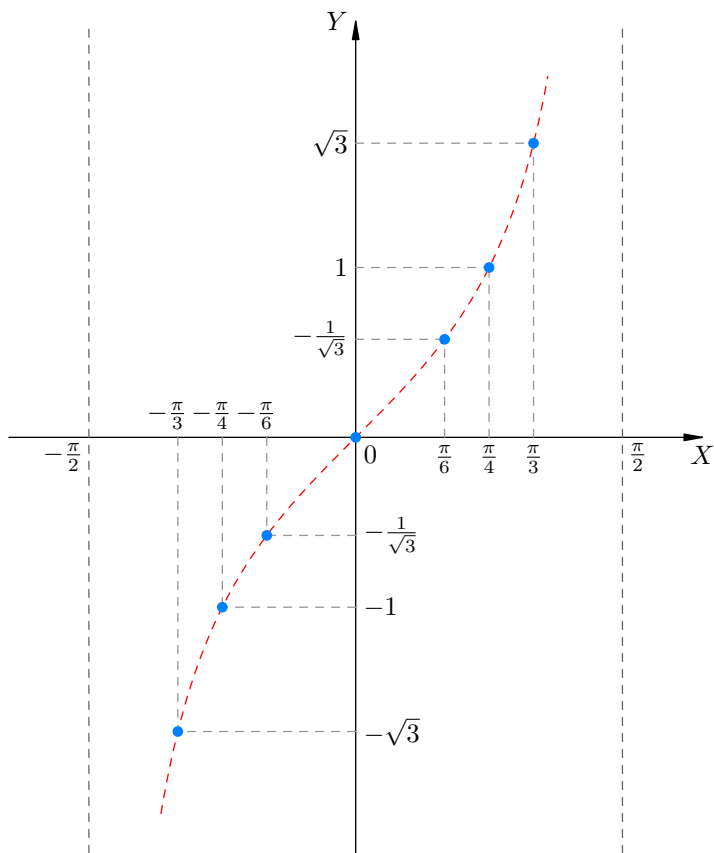


Рис. 7. Табличные значения тангенса: график

Точки ложатся на плавную кривую, которая служит графиком функции  $y = \operatorname{tg} x$  на интервале  $(-\pi/2; \pi/2)$ . Прямые  $x = \pm\pi/2$  являются вертикальными асимптотами графика: если угол приближается к  $\pm\pi/2$ , то тангенс неограниченно возрастает по модулю.

Что будет за пределами интервала  $(-\pi/2; \pi/2)$ ? Оказывается, ничего нового мы не получим, поскольку период тангенса равен  $\pi$  (рис. 8).

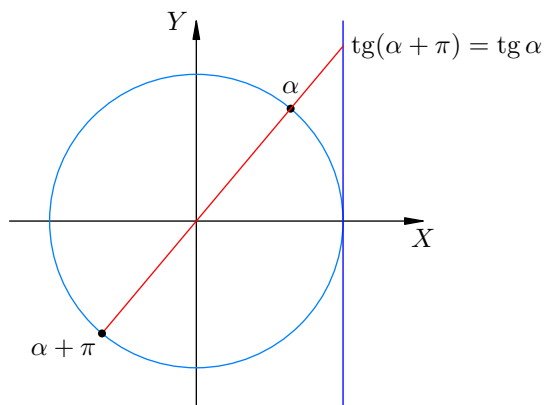


Рис. 8. Период тангенса равен  $\pi$

Как видим, тангенс повторяет свои значения через каждые пол-оборота по тригонометрической окружности. Иными словами, для любого  $x \neq \pi/2 + \pi k$  ( $k \in \mathbb{Z}$ ) выполнено равенство:

$$\operatorname{tg}(x + \pi n) = \operatorname{tg} x \quad (n \in \mathbb{Z}).$$

Длина интервала  $(-\pi/2; \pi/2)$  как раз равна периоду тангенса  $\pi$ . На этом интервале график уже построен. Следовательно, полный график функции  $y = \operatorname{tg} x$  состоит из ветвей, которые получаются сдвигом построенной ветви на  $\pm\pi, \pm 2\pi, \dots$  (рис. 9).

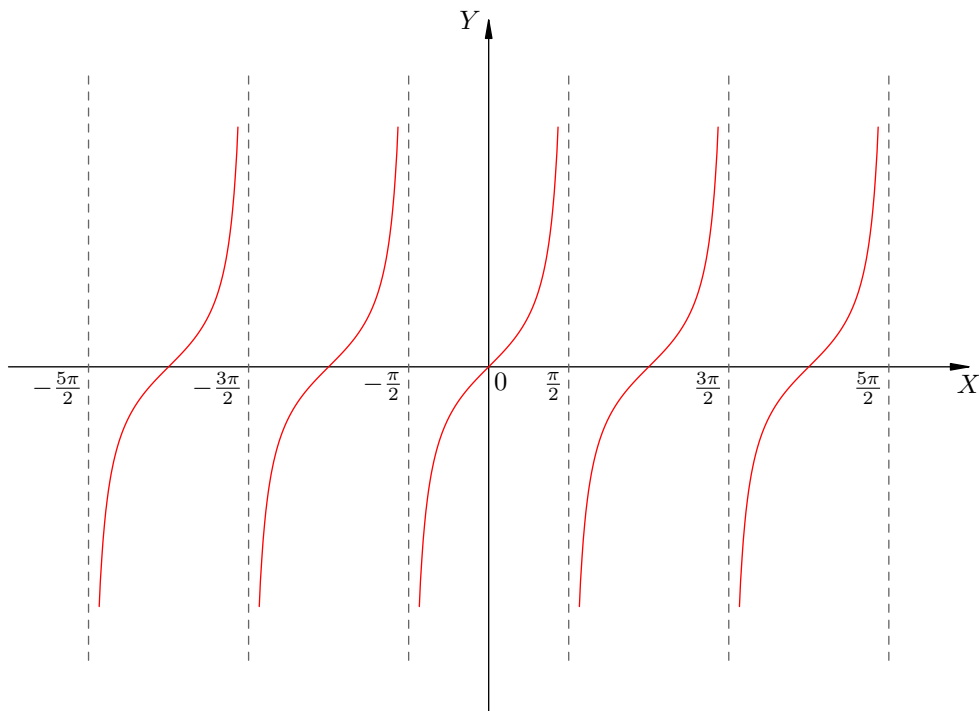


Рис. 9. График функции  $y = \operatorname{tg} x$

В точках  $x = \pm\pi/2, \pm 3\pi/2, \pm 5\pi/2, \dots$ , в которых тангенс не определён, расположены вертикальные асимптоты графика.

### График котангенса

Начнём с того, что нанесём табличные значения котангенса на линию котангенсов (рис. 10).

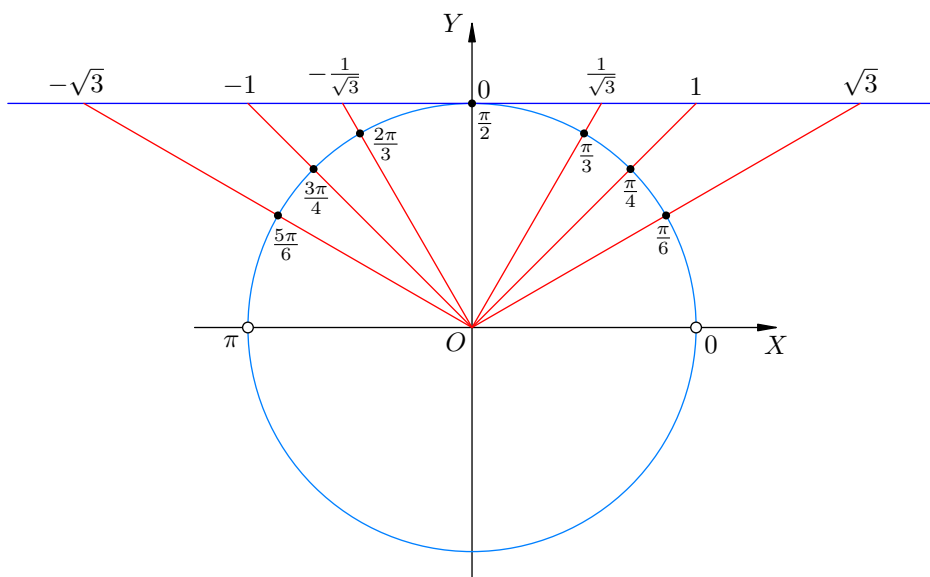


Рис. 10. Табличные значения на линии котангенсов

Точки 0 и  $\pi$  изображены выколотыми: котангенс этих углов не существует. Добавлены углы

$2\pi/3$ ,  $3\pi/4$  и  $5\pi/6$ ; значения котангенса этих углов очевидны из геометрической интерпретации котангенса.

Теперь изобразим ту же самую картину на графике (рис. 11). Точки ложатся на плавную кривую, которая служит графиком котангенса на интервале  $(0; \pi)$ .

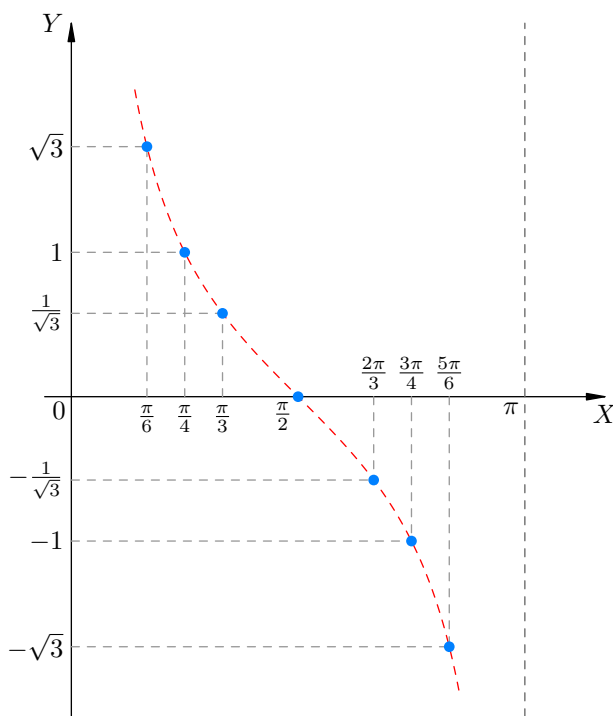


Рис. 11. Табличные значения котангенса: график

Период котангенса (как и тангенса) равен  $\pi$ , поэтому полный график функции  $y = \text{ctg } x$  состоит из ветвей, получающихся сдвигом построенной ветви на  $\pm\pi, \pm2\pi, \dots$  (рис. 12).

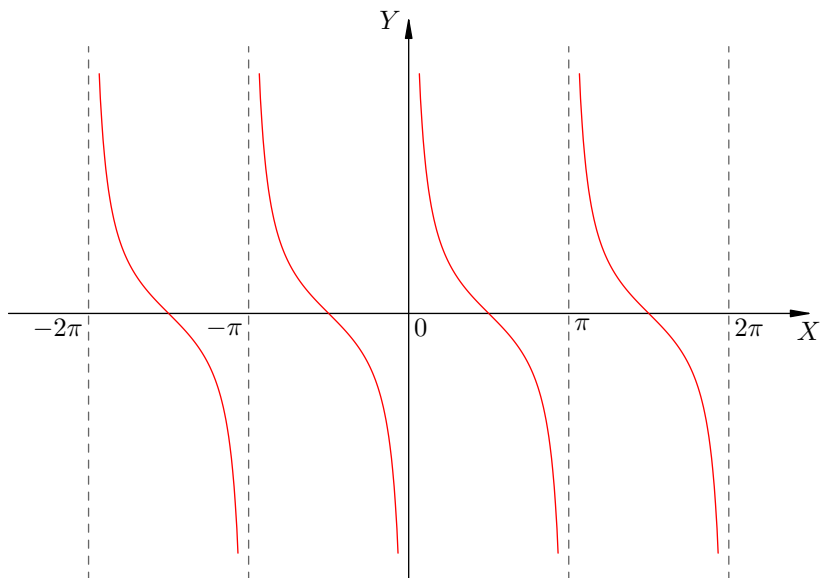


Рис. 12. График функции  $y = \text{ctg } x$

В точках  $x = 0, \pm\pi, \pm2\pi, \dots$ , в которых котангенс не определён, расположены вертикальные асимптоты графика.



## Основные свойства функций $y = \operatorname{tg} x$ и $y = \operatorname{ctg} x$

Тангенс не определён в точках  $\pi/2 + \pi n$  ( $n \in \mathbb{Z}$ ), в которых косинус обращается в нуль. Поэтому

$$D(\operatorname{tg}) = \left\{ x \in \mathbb{R} : x \neq \frac{\pi}{2} + \pi n \ (n \in \mathbb{Z}) \right\}.$$

Котангенс не определён в точках  $\pi n$  ( $n \in \mathbb{Z}$ ), в которых синус обращается в нуль. Имеем:

$$D(\operatorname{ctg}) = \{ x \in \mathbb{R} : x \neq \pi n \ (n \in \mathbb{Z}) \}.$$

Тангенс и котангенс могут принимать любые значения. Иными словами, область значения этих функций есть множество всех действительных чисел:

$$E(\operatorname{tg}) = E(\operatorname{ctg}) = \mathbb{R}.$$

Как уже отмечалось выше, период тангенса и котангенса равен  $\pi$ :

$$\operatorname{tg}(x + \pi) = \operatorname{tg} x, \quad \operatorname{ctg}(x + \pi) = \operatorname{ctg} x.$$

Периодом будет и любое число  $\pi n$  с целым  $n$ :

$$\operatorname{tg}(x + \pi n) = \operatorname{tg} x, \quad \operatorname{ctg}(x + \pi n) = \operatorname{ctg} x, \quad (n \in \mathbb{Z}).$$

Никакое другое число периодом этих функций не является. Таким образом, *наименьший положительный период* тангенса и котангенса равен  $\pi$ .

Тангенс — функция нечётная. В самом деле,

$$\operatorname{tg}(-x) = \frac{\sin(-x)}{\cos(-x)} = \frac{-\sin x}{\cos x} = -\operatorname{tg} x$$

(мы воспользовались нечётностью синуса и чётностью косинуса). Аналогично, и котангенс является нечётной функцией:

$$\operatorname{ctg}(-x) = -\operatorname{ctg} x.$$

Ввиду нечётности тангенса и котангенса графики функций  $y = \operatorname{tg} x$  и  $y = \operatorname{ctg} x$  симметричны относительно начала координат. Посмотрите ещё раз на рис. 9 и 12 и убедитесь в том, что указанная центральная симметрия действительно присутствует.

## Задачи

1. Вычислите: а)  $\sin \frac{17\pi}{4}$ ; б)  $\cos \frac{23\pi}{3}$ ; в)  $\operatorname{tg} \frac{35\pi}{6}$ ; г)  $\operatorname{ctg} \frac{25\pi}{4}$ ; д)  $\sin\left(-\frac{41\pi}{6}\right)$ ; е)  $\cos\left(-\frac{43\pi}{4}\right)$ ; ж)  $\operatorname{tg}\left(-\frac{43\pi}{3}\right)$ ; з)  $\operatorname{ctg}\left(-\frac{53\pi}{6}\right)$  и)  $\sin \frac{100\pi}{3}$ ; к)  $\cos\left(-\frac{1001\pi}{6}\right)$ .

$\frac{\pi}{8} - (x; \frac{\pi}{8}) - (и; \frac{\pi}{8}) (\varepsilon; \frac{\pi}{8}) - (ж; \frac{\pi}{8}) - (о; \frac{\pi}{8}) - (т; \frac{\pi}{8}) (z; \frac{\pi}{8}) - (и; \frac{\pi}{8}) (г; \frac{\pi}{8}) (в; \frac{\pi}{8})$
---

2. Определите знак выражения: а)  $\sin \frac{3\pi}{5}$ ; б)  $\cos \frac{10\pi}{7}$ ; в)  $\operatorname{tg} \frac{27\pi}{7}$ ; г)  $\sin 1$ ; д)  $\cos 2$ ; е)  $\operatorname{tg} 3$ ; ж)  $\operatorname{ctg} 4$ ; з)  $\cos 5$ ; и)  $\sin 6$ ; к)  $\operatorname{tg} 7$ ; л)  $\operatorname{ctg} 8$ .

$- (т; +) (х; -) (и; +) (\varepsilon; +) (ж; -) (о; -) (т; +) (z; -) (и; -) (г; +) (в; +)$
--

3. Определите знак выражения: а)  $\sin \frac{3\pi}{7} - \sin \frac{2\pi}{7}$ ; б)  $\cos \frac{2\pi}{5} - \cos \frac{\pi}{5}$ ; в)  $\operatorname{tg} \frac{4\pi}{9} - \operatorname{tg} \frac{2\pi}{9}$ ; г)  $\operatorname{ctg} \frac{5\pi}{11} - \operatorname{ctg} \frac{4\pi}{11}$ .

$- (z; +) (и; -) (г; +) (в; +)$
---------------------------------

4. Может ли функция  $y = \sin x$  принимать значения: а)  $2/3$ ; б)  $-3/2$ ; в)  $\sqrt{2}$ ; г)  $\sqrt{3}/3$ ; д)  $\pi/3$ ?

$лэн (т; в) (z; лэн) (и; лэн) (г; в) (в; в)$
--

5. Может ли функция  $y = \cos x$  принимать значения: а)  $-3/4$ ; б)  $0,99$ ; в)  $-1,001$ ; г)  $\sqrt{10}/3$ ; д)  $7\pi/22$ ?

вг (г : лэн (л : лэн (в : вг (г : вг (в

6. Может ли функция  $y = \operatorname{tg} x$  принимать значения: а)  $2$ ; б)  $-10$ ; в)  $100$ ; г)  $-1000$ ?

вг (г : вг (в : вг (г : вг (в

7. Найдите все значения  $x$  из промежутка  $[0; 2\pi]$  такие, что: а)  $\sin x = 1$ ; б)  $\cos x = 1$ .

лг '0 (г :  $\frac{\pi}{2}$  (в

8. Найдите все значения  $x$  из промежутка  $[0; 2\pi]$  такие, что: а)  $\sin x = -1$ ; б)  $\cos x = -1$ .

л (г :  $\frac{3\pi}{2}$  (в

9. Найдите все значения  $x$  из промежутка  $[0; 2\pi]$  такие, что: а)  $\sin x = 0$ ; б)  $\cos x = 0$ .

$\frac{\pi}{2}$  ;  $\frac{3\pi}{2}$  (г : лг 'л '0 (в

10. Найдите все значения  $x$  из промежутка  $[0; 2\pi]$  такие, что: а)  $\sin x = \frac{1}{2}$ ; б)  $\cos x = \frac{1}{2}$ .

$\frac{\pi}{6}$  ;  $\frac{5\pi}{6}$  (г :  $\frac{9}{2}$  ;  $\frac{9}{2}$  (в

11. Найдите все значения  $x$  из промежутка  $[0; 2\pi]$  такие, что: а)  $\sin x = \frac{\sqrt{2}}{2}$ ; б)  $\cos x = \frac{\sqrt{2}}{2}$ .

$\frac{\pi}{4}$  ;  $\frac{3\pi}{4}$  (г :  $\frac{\pi}{4}$  ;  $\frac{7\pi}{4}$  (в

12. Найдите все значения  $x$  из промежутка  $[0; 2\pi]$  такие, что: а)  $\sin x = \frac{\sqrt{3}}{2}$ ; б)  $\cos x = \frac{\sqrt{3}}{2}$ .

$\frac{9}{2}$  ;  $\frac{9}{2}$  (г :  $\frac{\pi}{2}$  ;  $\frac{\pi}{2}$  (в

13. Найдите все значения  $x$  из промежутка  $[0; 2\pi]$  такие, что: а)  $\sin x = -\frac{1}{2}$ ; б)  $\cos x = -\frac{1}{2}$ .

$\frac{\pi}{2}$  ;  $\frac{3\pi}{2}$  (г :  $\frac{9}{2}$  ;  $\frac{9}{2}$  (в

14. Найдите все значения  $x$  из промежутка  $[0; 2\pi]$  такие, что: а)  $\sin x = -\frac{\sqrt{2}}{2}$ ; б)  $\cos x = -\frac{\sqrt{2}}{2}$ .

$\frac{\pi}{4}$  ;  $\frac{5\pi}{4}$  (г :  $\frac{\pi}{4}$  ;  $\frac{5\pi}{4}$  (в

15. Найдите все значения  $x$  из промежутка  $[0; 2\pi]$  такие, что: а)  $\sin x = -\frac{\sqrt{3}}{2}$ ; б)  $\cos x = -\frac{\sqrt{3}}{2}$ .

$\frac{9}{2}$  ;  $\frac{9}{2}$  (г :  $\frac{\pi}{2}$  ;  $\frac{\pi}{2}$  (в

16. Найдите все значения  $x$  из промежутка  $[0; 2\pi]$  такие, что: а)  $\operatorname{tg} x = 0$ ; б)  $\operatorname{tg} x = 1$ ; в)  $\operatorname{tg} x = -1$ ; г)  $\operatorname{tg} x = \frac{\sqrt{3}}{3}$ ; д)  $\operatorname{tg} x = -\frac{\sqrt{3}}{3}$ ; е)  $\operatorname{tg} x = \sqrt{3}$ ; ж)  $\operatorname{tg} x = -\sqrt{3}$ .

·  $\frac{\pi}{2}$  ;  $\frac{3\pi}{2}$  (ж :  $\frac{\pi}{4}$  ;  $\frac{5\pi}{4}$  (з :  $\frac{9}{2}$  ;  $\frac{9}{2}$  (г :  $\frac{9}{2}$  ;  $\frac{9}{2}$  (д :  $\frac{\pi}{4}$  ;  $\frac{5\pi}{4}$  (в :  $\frac{\pi}{4}$  ;  $\frac{5\pi}{4}$  (г : лг 'л '0 (в

17. Найдите все значения  $x$  из промежутка  $[-2\pi; 0]$  такие, что  $\cos x = \frac{1}{2}$ .

$\frac{\pi}{2}$  ;  $\frac{3\pi}{2}$  -

18. Найдите все значения  $x$  из промежутка  $[-\pi; \frac{\pi}{2}]$  такие, что  $|\sin x| = \frac{1}{2}$ .

$$\frac{9}{x} ; \frac{9}{x} - ; \frac{9}{x6} -$$

19. Найдите все значения  $x$  из промежутка  $[2\pi; 3\pi]$  такие, что  $\cos^2 x = \frac{1}{2}$ .

$$\frac{7}{x11} ; \frac{7}{x6}$$