

Оценка плюс пример

1. (*Олимпиада Физтех-лицея, 2015, 5–8*) В понедельник в школьную библиотеку пришло 8 учеников, во вторник — 4, в среду — 6, в четверг — 2, в пятницу — 5. Никто из учеников не был в библиотеке два дня подряд. Какое наименьшее количество учеников побывало в библиотеке с понедельника по пятницу?
2. (*«Покори Воробьёвы горы!», 2016, 5–9*) Найдите наибольшее натуральное число, которое невозможно представить в виде суммы двух составных чисел.
3. (*Всеросс., 2015, ШЭ, 8*) Все натуральные числа, сумма цифр в записи которых делится на 5, выписывают в порядке возрастания: 5, 14, 19, 23, 28, 32, ... Чему равна самая маленькая положительная разность между соседними числами в этом ряду? Приведите пример и объясните, почему меньше быть не может.
4. (*Всеросс., 2015, ШЭ, 9*) На шахматной доске стоял 21 король. Каждый из королей находился под боем хотя бы одного из остальных. После того как несколько королей убрали, никакие два из оставшихся королей друг друга не бьют. Какое наибольшее число королей могло остаться?
 - а) Приведите пример исходной расстановки и отметьте убранных королей.
 - б) Докажите, что большее число королей остаться не могло.
5. (*Всеросс., 2016, МЭ, 8*) Двенадцать стульев стоят в ряд. Иногда на один из свободных стульев садится человек. При этом ровно один из его соседей (если они были) встает и уходит. Какое наибольшее количество человек могут одновременно оказаться сидящими, если вначале все стулья были пустыми?
6. (*Всеросс., 2017, МЭ, 8*) Какое наибольшее количество натуральных чисел, не превосходящих 2016, можно отметить так, чтобы произведение любых двух отмеченных чисел было бы точным квадратом?
7. (*Всеросс., 2017, МЭ, 9*) На доске записаны двузначные числа. Каждое число составное, но любые два числа взаимно просты. Какое наибольшее количество чисел может быть записано?
8. (*«Ломоносов», 2013, 7–8*) Блоха прыгает по числовой прямой, причём длина каждого прыжка не может быть меньше n . Она начинает своё движение из начала координат и хочет побывать во всех целых точках, принадлежащих отрезку $[0; 2013]$ (и только в них!) ровно по одному разу. При каком наибольшем значении n это у неё получится?
9. (*«Ломоносов», 2012, 7–8*) Электронные часы показывают время в стандартном формате (например, 20:27). Найдите наибольшее возможное значение произведения цифр на таких часах.
10. (*«Покори Воробьёвы горы!», 2015, 7–8*) Числа 1, 2, ..., 2016 разбили на пары, при этом оказалось, что произведение чисел в каждой паре не превосходит некоторого натурального N . При каком наименьшем N это возможно?

11. («Курчатова», 2014, 8) На свободные поля шахматной доски 8×8 по одному выставляли чёрных и белых слонов. Чёрный слон при выставлении бил чётное число ранее выставленных слонов любых цветов (в частности, мог не бить никого), а белый — нечётное. Так заполнили всю доску. Какое наименьшее число чёрных слонов могло быть выставлено? (Слоны бьют друг друга если стоят на одной диагонали и между ними нет других слонов.)

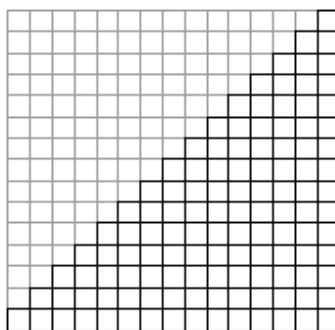
12. («Ломоносов», 2012, 8) Для какого наименьшего числа n можно отметить на плоскости n точек так, что найдутся четыре квадрата, все вершины которых — отмеченные точки?

13. («Покори Воробьёвы горы!», 2015, 8) Число 2015 можно представить в виде суммы последовательных целых чисел различным образом, например $2015 = 1007 + 1008$ или $2015 = 401 + 402 + 403 + 404 + 405$. Какое наибольшее количество слагаемых может быть в таком представлении? Замечание: целые числа могут быть отрицательными.

14. («Покори Воробьёвы горы!», 2017, 5–6.3, 7–8.2, 9.1) Вовочка подошел к игровому автомату, на экране которого горело число 0. В правилах игры было написано: «На экране показано число очков. Если кинуть монетку в 1 руб., то число очков увеличится на 1. Если кинуть монетку 2 руб., то число очков удвоится. Если набрать 50 очков, то автомат выдаёт приз. А если получилось число, большее 50, то все набранные очки сгорают.»

За какое минимальное количество рублей Вовочка сможет получить приз?

15. (Турнир городов, 2015, 8–9) На какое наименьшее количество квадратов можно разрезать лесенку из 15 ступеней (см. рисунок)? Резать можно только по границам клеток.



16. (Турнир городов, 2016, 8–11) В квадрате 10×10 все клетки левого верхнего квадрата 5×5 закрашены чёрным цветом, а остальные клетки — белым. На какое наибольшее количество многоугольников можно разрезать (по границам клеток) этот квадрат так, чтобы в каждом многоугольнике чёрных клеток было в три раза меньше, чем белых? (Многоугольники не обязаны быть равными или даже равновеликими.)

17. (Турнир городов, 2016, 8–9) Художник-абстракционист взял деревянный куб $5 \times 5 \times 5$, разбил каждую грань на единичные квадраты и окрасил каждый из них в один из трёх цветов — чёрный, белый или красный — так, что нет соседних по стороне квадратов одного цвета. Какое наименьшее число чёрных квадратов могло при этом получиться? (Квадраты, имеющие общую сторону, считаются соседними и в случае, если они лежат на одной грани куба, и в случае, если они лежат на разных гранях куба.)

18. (*Турнир городов, 2016, 8–9*) а) Есть $2n + 1$ батареек ($n > 2$). Известно, что хороших среди них на одну больше, чем плохих, но какие именно батарейки хорошие, а какие плохие, неизвестно. В фонарик вставляются две батарейки, при этом он светит, только если обе — хорошие. За какое наименьшее число таких попыток можно гарантированно добиться, чтобы фонарик светил?

б) Та же задача, но батареек $2n$ ($n > 2$), причём хороших и плохих поровну.

19. (*«Покори Воробьёвы горы!», 2013, 9*) Найдите наименьшее значение выражения

$$\left(\frac{1}{x} + \frac{1}{y}\right)^2 - 3 \cdot \left(\frac{x}{y} + \frac{y}{x}\right) + (x + y)^2$$

при условии, что

$$\frac{1}{x} + \frac{1}{y} = 3.$$

20. (*Всеросс., 2015, МЭ, 9*) Сумма десяти натуральных чисел равна 1001. Какое наибольшее значение может принимать НОД (наибольший общий делитель) этих чисел?

21. (*Всеросс., 2014, МЭ, 9*) В квадратной таблице размером 100×100 некоторые клетки закрашены. Каждая закрашенная клетка является единственной закрашенной клеткой либо в своём столбце, либо в своей строке. Какое наибольшее количество клеток может быть закрашено?

22. (*Всеросс., 2016, МЭ, 9*) В ожидании покупателей продавец арбузов поочерёдно взвесил 20 арбузов (массой 1 кг, 2 кг, 3 кг, ..., 20 кг), уравновесивая арбуз на одной чашке весов одной или двумя гириями на другой чашке (возможно, одинаковыми). При этом продавец записывал на бумажке, гири какой массы он использовал. Какое наименьшее количество различных чисел могло оказаться в его записях, если масса каждой гири — целое число килограммов?

23. (*ММО, 2014, 9*) Дано n палочек. Из любых трёх можно сложить тупоугольный треугольник. Каково наибольшее возможное значение n ?

24. (*«Ломоносов», 2014, 9*) Множество X состоит из пяти различных чисел x_1, \dots, x_5 , а множество Y — из семи различных чисел y_1, \dots, y_7 . Какое наибольшее количество различных чисел заведомо содержит множество, состоящее из сумм вида $x_i + y_j$, где $i \in \{1, \dots, 5\}$, $j \in \{1, \dots, 7\}$?

25. (*«Высшая проба», 2012, 9*) Найдите максимальное число частей, на которые могут разбить плоскость 10 острых углов.

26. (*«Курчатов», 2014, 9*) Фома и Ерёма делят палку колбасы по такому правилу. Сначала Фома режет палку на две части разного веса. Затем Ерёма режет одну из частей на две так, чтобы веса всех трёх кусков были различны. Из трёх полученных кусков Ерёма берёт средний по весу, а остальные два куска достаются Фоме. Какую наибольшую долю колбасы может себе гарантировать Фома при любых действиях Ерёмы?

27. (*ОММО, 2015, 9–10*) Прямоугольник P разбит прямыми, параллельными его сторонам, на девять маленьких прямоугольников. Про какое наименьшее количество маленьких прямоугольников достаточно узнать площади, чтобы можно было однозначно определить площадь прямоугольника P ?

28. (*ОММО, 2016, 11*) Федерация спортивной борьбы присвоила каждому участнику соревнования квалификационный номер. Известно, что во встречах борцов, квалификационные номера которых отличаются более чем на 2 номера, всегда побеждает борец с меньшим номером. Турнир для 256 борцов проводится по олимпийской системе: в начале каждого дня бойцы разбиваются на пары, проигравший выбывает из соревнований (ничьих не бывает). Какой наибольший квалификационный номер может иметь победитель?

29. («*Высшая проба*», 2014, 9, 11) Последовательность a_n строится следующим образом: a_1, a_2 — произвольные действительные числа, при $n \geq 3$ число a_n равно наименьшему из чисел $|a_i - a_j|$, $1 \leq i < j \leq n - 1$. Например, если $a_1 = 6$, $a_2 = \frac{19}{2}$, то получаем последовательность $6, \frac{19}{2}, \frac{7}{2}, \frac{5}{2}, 1, 1, 0, 0, 0, \dots$. При некотором выборе a_1, a_2 получилась последовательность, в которой $a_{10} = 1$. Найдите наименьшее возможное значение a_3 в такой последовательности.

30. (*Всеросс., 2015, регион, 9*) За круглым столом сидят 2015 человек, каждый из них — либо рыцарь, либо лжец. Рыцари всегда говорят правду, лжецы всегда лгут. Им раздали по одной карточке, на каждой карточке написано по числу; при этом все числа на карточках различны. Посмотрев на карточки соседей, каждый из сидящих за столом сказал: «Моё число больше, чем у каждого из двух моих соседей». После этого k из сидящих сказали: «Моё число меньше, чем у каждого из двух моих соседей». При каком наибольшем k это могло случиться?

31. (*Всеросс., 2015, финал, 9*) По кругу записаны 100 целых чисел. Каждое из чисел больше суммы двух чисел, следующих за ним по часовой стрелке. Какое наибольшее количество положительных чисел может быть среди записанных?

32. (*Всеросс., 2015, финал, 9*) Натуральные числа a, x и y , большие 100, таковы, что

$$y^2 - 1 = a^2(x^2 - 1).$$

Какое наименьшее значение может принимать дробь a/x ?

33. (*Всеросс., 2014, финал, 9*) Серёжа выбрал два различных натуральных числа a и b . Он записал в тетрадь четыре числа: $a, a + 2, b$ и $b + 2$. Затем он выписал на доску все шесть попарных произведений чисел из тетради. Какое наибольшее количество точных квадратов может быть среди чисел на доске?

34. (*Всеросс., 2014, финал, 9*) В выпуклом n -угольнике проведено несколько диагоналей. Проведённая диагональ называется *хорошей*, если она пересекается (по внутренним точкам) ровно с одной из других проведённых диагоналей. Найдите наибольшее возможное количество хороших диагоналей.

35. (*Всеросс., 2015, МЭ, 10*) Каждый день, с понедельника по пятницу, ходил старик к синему морю и закидывал в море невод. При этом каждый день в невод попадалось не больше рыбы, чем в предыдущий. Всего за пять дней старик поймал ровно 100 рыбок. Какое наименьшее суммарное количество рыбок он мог поймать за три дня — понедельник, среду и пятницу?

36. (*Всеросс., 2014, МЭ, 10*) Найдите наибольшее значение выражения

$$a + b + c + d - ab - bc - cd - da,$$

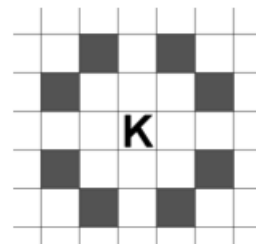
если каждое из чисел a, b, c и d принадлежит отрезку $[0; 1]$.

37. (*Всеросс., 2016, МЭ, 10*) Каково наибольшее количество последовательных натуральных чисел, у каждого из которых ровно четыре натуральных делителя (включая 1 и само число)?

38. (*«Покори Воробьёвы горы!», 2010, 10–11*) После вырубki нескольких деревьев в парке оказалось, что число оставшихся деревьев равно числу процентов, на которое число деревьев в парке уменьшилось за время вырубki. Какое наименьшее число деревьев могло остаться в парке?

39. (*«Курчатов», 2014, 10*) На клетчатой доске $2k \times 2k$ расставили n белых и n черных ладей так, что ладьи разных цветов не бьют друг друга. При каком наибольшем n такое возможно?

40. (*«Высшая проба», 2016, 10*) Каждый ход шахматного коня — перемещение на одну клетку по горизонтали и две по вертикали, либо наоборот — одну по вертикали и две по горизонтали. (На рисунке конь, отмеченный буквой К, может за один ход переместиться в любую из затемнённых клеток.)



В произвольной клетке прямоугольной доски размером 2×2016 клеток стоит шахматный конь. Перемещаясь по описанному правилу (и не выходя при этом за края доски), он может из этой клетки попасть в некоторые другие клетки доски, но не во все. Какое наименьшее количество клеток нужно добавить к доске, чтобы конь мог из любой клетки доски попасть во все остальные? (Добавление клетки происходит так, чтобы она имела общую сторону с одной из уже имеющихся. Добавлять можно любое количество клеток, получившаяся при этом доска не обязательно должна иметь прямоугольную форму.)

41. (*Олимпиада ВШЭ, 2011, 10*) Две армии А и Б, состоящие соответственно из 800 и 1000 воинов, встретились на поле битвы и договорились воевать «по-рыцарски». Каждому воину даётся одна смертельно ядовитая стрела (задетый стрелой мгновенно умирает), и они выстреливают по договору: сначала некоторая часть армии А, потом некоторая часть армии Б, потом ещё раз часть армии А, потом ещё раз часть Б, и всё. Какое минимальное число воинов может остаться в живых?

42. (*«Высшая проба», 2013, 10*) Пусть x , y и z — произвольные вещественные числа. Какое наименьшее значение может принимать выражение

$$\sqrt{2+x^2} + \sqrt{2+(x-y)^2} + \sqrt{2+(y-z)^2} + \sqrt{2+(z-2)^2}?$$

Обоснуйте свой ответ.

43. (*«Высшая проба», 2014, 10*) На плоскости даны восемь различных точек. Нумерацию этих точек числами от 1 до 8 назовём *хорошей*, если выполнено следующее условие:

существует такая прямая, что все точки лежат по одну сторону и на разных расстояниях от неё, и при этом расстояния от точек до этой прямой возрастают с возрастанием номера. Т. е. ближайшая точка — номер 1, следующая по удалённости — номер 2, и т. д.

Какое максимальное количество различных хороших нумераций может быть у заданной восьмёрки точек?

44. (*«Высшая проба», 2012, 10*) На плоскости отметили девять точек. Из каждой из них выпустили три луча, образующие друг с другом тупые углы и не проходящие через другие точки. На какое минимальное число частей получившиеся 27 лучей могут разбить плоскость?

45. (*Всеросс., 2014, регион, 10*) В языке племени АУ две буквы — «а» и «у». Некоторые последовательности этих букв являются словами, причём в каждом слове не больше 13 букв. Известно, что если написать подряд любые два слова, то полученная последовательность букв не будет словом. Найдите максимальное возможное количество слов в таком языке.

46. (*Всеросс., 2015, МЭ, 11*) Какое наименьшее количество множителей требуется вычеркнуть из числа $99!$ так, чтобы произведение оставшихся множителей оканчивалось на 2?

47. (*«Курчатов», 2014, 11*) На клетчатой доске $(2k + 1) \times (2k + 1)$ расставили n белых и n черных ладей так, что ладьи разных цветов не бьют друг друга. При каком наибольшем n такое возможно?

48. (*«Высшая проба», 2013, 11*) Пусть x , y и z — произвольные вещественные числа. Какое наименьшее значение может принимать выражение

$$\sqrt{1 + x^2} + \sqrt{1 + (x - y)^2} + \sqrt{1 + (y - z)^2} + \sqrt{1 + (3 - z)^2}?$$

Обоснуйте свой ответ.

49. (*«Высшая проба», 2013, 11*) Вместо крестиков в выражении $\times \cdot \times + \times \cdot \times + \dots + \times \cdot \times$ (50 слагаемых) расставили числа $1, \dots, 100$, каждое по одному разу. Какое максимальное и минимальное значение может иметь полученное выражение?

50. (*«Ломоносов», 2017, 10–11*) Рассматриваются всевозможные наборы, которые состоят из 2017 различных натуральных чисел и в каждом из которых ни одно из чисел нельзя представить в виде суммы двух других чисел этого набора. Какое наименьшее значение может принимать наибольшее число в таком наборе?

51. (*«Ломоносов», 2016, 10–11*) Какое наибольшее количество чисел можно выбрать из множества всех нечётных чисел, лежащих между 16 и 2016, чтобы ни одно из выбранных чисел не делилось ни на одно другое?

52. (*«Ломоносов», 2014, 10–11*) Для охраны объекта в течение 5 суток заказчик договорился с охранниками о следующем: все они укажут отрезки времени своих предполагаемых дежурств с единственным условием, чтобы их объединение составляло заданные 5 суток, а он выберет из этих отрезков любой набор, удовлетворяющий тому же условию, и оплатит работу из расчёта 500 руб. в час каждому дежурному. Какая наименьшая сумма денег, заранее подготовленная заказчиком, позволит ему наверняка расплатиться с охранниками?

53. (*«Ломоносов», 2013, 10–11*) В коробке у Маши лежат 25 новогодних шаров, которыми Маша начинает украшать ёлку. Каждый шар он сначала в течение 10 секунд выбирает в коробке, а затем в течение 15 секунд вешает на ёлку. Два её младших брата Саша и Паша незаметно снимают шары с ёлки и прячут среди своих игрушек. Дождавшись момента, когда Маша начинает искать в коробке очередной шар, один из братьев (но не оба) может снять с ёлки один шар (на это ему требуется ровно 10 секунд). После этого, на то, чтобы спрятать украденный шар, у Саши уходит 50 секунд, после чего он готов украсть с ёлки следующий шар, а Паша прячет шар за одну минуту и 50 секунд. Какое наименьшее число шаров может висеть на ёлке в тот момент, когда Маша повесит свой последний шар?

54. («Ломоносов», 2012, 10–11) В течение дня выставку посетили по одному разу ровно 1000 человек, причём в любой момент на ней находилось менее 38 посетителей. Какое наибольшее количество человек, не встречавшихся (попарно) на выставке друг с другом, можно при этом гарантированно выбрать из всех посетителей?

55. («Ломоносов», 2011, 10–11) Какое наименьшее (одинаковое) число карандашей нужно положить в каждую из 6 коробок так, чтобы в любых 4 коробках нашлись карандаши любого из 26 заранее заданных цветов (карандашей имеется достаточное количество)?

56. («Ломоносов», 2008) На числовой прямой отмечены четыре красные точки, соответствующие первым членам геометрической прогрессии с первым членом 3 и знаменателем -2 , а также четыре зелёные точки, соответствующие первым членам некоторой арифметической прогрессии с первым членом -12 . Какова при этом наименьшая возможная сумма длин четырёх отрезков с разноцветными концами, включающими все восемь отмеченных точек? (Каждая из восьми точек является концом одного из отрезков.)

57. («Высшая проба», 2012, 11) Найдите максимальное число частей, на которые могут разбить плоскость графики десяти квадратичных функций $y = ax^2 + bx + c$, $a \neq 0$.

58. («Высшая проба», 2012, 11) В пространстве выбраны четыре точки, все координаты каждой из которых делятся на 3, причём эти точки не лежат в одной плоскости. Какое минимальное число точек, все координаты которых чётны, может содержаться в тетраэдре, вершинами которого являются выбранные четыре точки? (Содержаться — значит лежать внутри, на грани, на ребре или в вершине.)

59. («Высшая проба», 2015, 10–11) Даны три точки A , B , C , образующие треугольник с углами 30° , 45° , 105° . Выбираются две из этих точек, и проводится серединный перпендикуляр к отрезку, их соединяющему, после чего третья точка отражается относительно этого серединного перпендикуляра. Получаем четвёртую точку D . С полученным набором из 4 точек осуществляется та же процедура — выбираются две точки, проводится серединный перпендикуляр и все точки отражаются относительно него. Какое наибольшее количество *различных* точек можно получить в результате многократного повторения этой процедуры?

60. (Турнир городов, 2016, 10–11) Фирма записала свои расходы в рублях по 100 статьям бюджета, получив список из 100 чисел (у каждого числа не более двух знаков после запятой). Каждый счетовод взял копию списка и нашёл приближённую сумму расходов, действуя следующим образом. Вначале он произвольно выбрал из списка два числа, сложил их, отбросил у суммы знаки после запятой (если они были) и записал результат вместо выбранных двух чисел. С полученным списком из 99 чисел он проделал то же самое, и так далее, пока в списке не осталось одно целое число. Оказалось, что в итоге все счетоводы получили разные результаты. Какое наибольшее число счетоводов могло работать в фирме?

61. (ММО, 2017, 11.4) Три велосипедиста ездят в одном направлении по круглому треку длиной 300 метров. Каждый из них движется со своей постоянной скоростью, все скорости различны. Фотограф сможет сделать удачный снимок велосипедистов, если все они окажутся на каком-либо участке трека длиной d метров. При каком наименьшем d фотограф рано или поздно заведомо сможет сделать удачный снимок?

62. (Всеросс., 2014, регион, 11) На доске написано выражение $\frac{a}{b} \cdot \frac{c}{d} \cdot \frac{e}{f}$, где a, b, c, d, e, f — натуральные числа. Если число a увеличить на 1, то значение этого выражения увеличится на 3. Если в исходном выражении увеличить число c на 1, то его значение увеличится на 4; если же в исходном выражении увеличить число e на 1, то его значение увеличится на 5. Какое наименьшее значение может иметь произведение bdf ?

63. (Всеросс., 2015, финал, 11) Даны натуральные числа a и b , причём $a < b < 2a$. На клетчатой плоскости отмечены некоторые клетки так, что в каждом клетчатом прямоугольнике $a \times b$ или $b \times a$ есть хотя бы одна отмеченная клетка. При каком наибольшем α можно утверждать, что для любого натурального N найдётся клетчатый квадрат $N \times N$, в котором отмечено хотя бы αN^2 клеток?

64. (Всеросс., 2016, финал, 11) На клетчатый лист бумаги размера 100×100 положили несколько попарно неперекрывающихся картонных равнобедренных прямоугольных треугольничков с катетом 1; каждый треугольничек занимает ровно половину одной из клеток. Оказалось, что каждый единичный отрезок сетки (включая граничные) накрыт ровно одним катетом треугольничка. Найдите наибольшее возможное число клеток, не содержащих ни одного треугольничка.

Олимпиада им. Леонарда Эйлера

16.3.1. Числа 1, 2, 3, 4, 5, 6, 7 записали по кругу в некотором порядке. Назовём записанное число *хорошим*, если оно равно сумме двух чисел, записанных рядом с ним. Каково наибольшее возможное количество хороших чисел среди записанных?

15.3.2. Разрешается вырезать из шахматной доски размером 20×20 любые 18 клеток, а потом выставить на оставшиеся клетки несколько ладей, не бьющих друг друга. Какое наибольшее число ладей можно выставить таким образом? Ладьи бьют друг друга, если они стоят на одной горизонтали или вертикали доски и между ними нет вырезанных клеток.


15.3.6. После просмотра фильма зрители по очереди оценивали фильм целым числом баллов от 0 до 10. В каждый момент времени рейтинг фильма вычислялся как сумма всех выставленных оценок, делённая на их количество. В некоторый момент времени T рейтинг оказался целым числом, а затем с каждым новым проголосовавшим зрителем он уменьшался на единицу. Какое наибольшее количество зрителей могло проголосовать после момента T ?

15.4.4. На каждой стороне квадрата выбрано по 100 точек, из каждой выбранной точки внутрь квадрата проведён отрезок, перпендикулярный соответствующей стороне квадрата. Оказалось, что никакие два из проведённых отрезков не лежат на одной прямой. Отметим все точки пересечения этих отрезков. При каком наибольшем $k < 200$ может случиться так, что на каждом проведённом отрезке лежит ровно k отмеченных точек?

14.3.7. На клетчатой доске размером 2014×2014 закрашено несколько (не меньше одной) клеток так, что в каждом квадратике размером 3×3 клетки закрашено чётное число клеток. Каково наименьшее возможное число закрашенных клеток?

14.4.7. Десятичная запись натурального числа N составлена только из единиц и двоек. Известно, что вычёркиванием цифр из этого числа можно получить любое из 10000 чисел, состоящих из 9999 единиц и одной двойки. Найдите наименьшее возможное количество цифр в записи числа N .

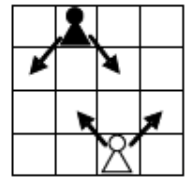
13.3.8 В клетках доски 8×8 расставлены числа 1 и -1 (в каждой клетке — по одному числу).

Рассмотрим всевозможные расположения четырёхклеточной фигурки  на доске (фигурку можно поворачивать, но её клетки не должны выходить за пределы доски). Назовём такое расположение *неудачным*, если сумма чисел, стоящих в четырёх клетках фигурки, не равна 0. Найдите наименьшее возможное число неудачных расположений.

12.3.6. По кругу выложены чёрные и белые шары, причем чёрных в два раза больше, чем белых. Известно, что среди пар соседних шаров одноцветных пар втрое больше, чем разноцветных. Какое наименьшее число шаров могло быть выложено?

11.3.7. Для четырёх различных целых чисел подсчитали все их попарные суммы и попарные произведения. Полученные суммы и произведения выписали на доску. Какое наименьшее количество различных чисел могло оказаться на доске?

11.4.8. Какое наибольшее количество белых и чёрных пешек можно расставить на клетчатой доске 9×9 (пешку, независимо от её цвета, можно ставить на любую клетку доски) так, чтобы никакая не была никакой (в том числе и своего цвета)? Белая пешка бьёт две соседние по диагонали клетки на соседней горизонтали с бóльшим номером, а чёрная — две соседние по диагонали клетки на соседней горизонтали с меньшим номером (см. рисунок).



10.3.7. При каком наибольшем n можно раскрасить числа $1, 2, \dots, 14$ в красный и синий цвета так, чтобы для любого числа $k = 1, 2, \dots, n$ нашлись пара синих чисел, разность между которыми равна k , и пара красных чисел, разность между которыми тоже равна k ?

10.4.4. В вершинах куба расставили числа $1^2, 2^2, \dots, 8^2$ (в каждую из вершин — по одному числу). Для каждого ребра посчитали произведение чисел в его концах. Найдите наибольшую возможную сумму всех этих произведений.

09.3.3. По кругу выписаны числа $1, 2, 3, \dots, 10$ в некотором порядке. Петя вычислил 10 сумм всех троек соседних чисел и написал на доске наименьшее из вычисленных чисел. Какое наибольшее число могло быть написано на доске?

09.4.1. У реки живёт племя Мумбо-Юмбо. Однажды со срочным известием в соседнее племя одновременно отправились молодой воин Мумбо и мудрый шаман Юмбо. Мумбо побежал со скоростью 11 км/ч к ближайшему хранилищу плотов, и затем поплыл на плоту в соседнее племя. А Юмбо, не торопясь, со скоростью 6 км/ч пошёл к другому хранилищу плотов и поплыл в соседнее племя оттуда. В итоге Юмбо приплыл раньше, чем Мумбо. Река прямолинейна, плоты плывут со скоростью течения. Эта скорость всюду одинакова и выражается целым числом км/ч, не меньшим 6. Каково наибольшее возможное её значение?